

【世界の姿 No.1】

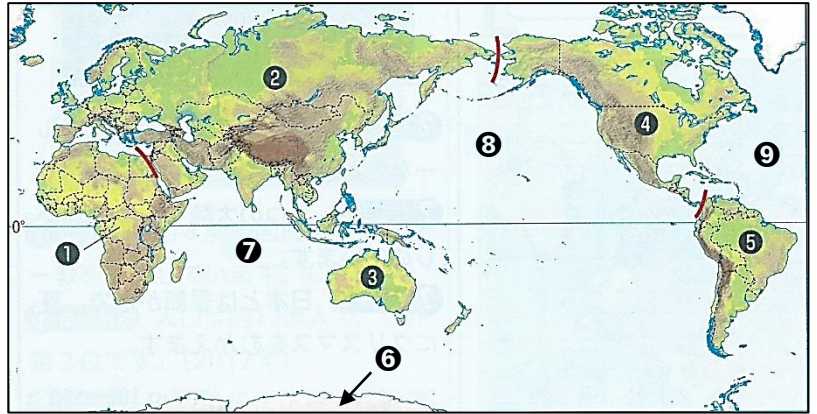
学習日 ()月()日()

1年()組()番 名前()

1 世界には、6つの大陸と3つの大きな海 (=大洋) があります。

それぞれの大陸の名前と大洋の名前を覚えましょう！

ヒントは地理の教科書の P2 にあるよ！



(1) 上の地図中の①～⑨にあてはまる大陸名や、海洋名を答えましょう。

①	大陸	②	大陸	③	大陸
④	大陸	⑤	大陸	⑥	大陸
⑦	洋	⑧	洋	⑨	洋

(2) 次の①～③の問いに答えましょう。

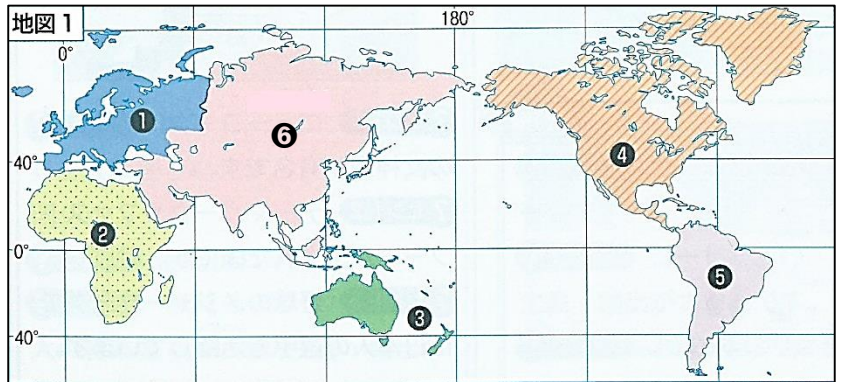
- ①地球の陸地と海洋の面積は、およそ何：何ですか。
- ②大陸の中で一番広いのは何ですか。
- ③大洋の中で一番広いのは何ですか。

① (陸地：海洋)	:
②	大陸
③	洋

2 世界をいくつかの地域に分けるときのよく使われるのが、6つの州に分ける方法です。大陸と同じ名前が使われている州もありますが、違う州もあります。

それぞれの州の名前を覚えましょう！

ヒントは地理の教科書の P3 にあるよ！



(1) 上の地図の①～⑥にあてはまる州の名前を答えよう。

①	州	②	州	③	州
④	州	⑤	州	⑥	州

(2) 次の①②の問いに答えましょう。

- ①日本が属しているのは、何州でしょうか。
- ②オーストラリアが属しているのは、何州でしょうか。

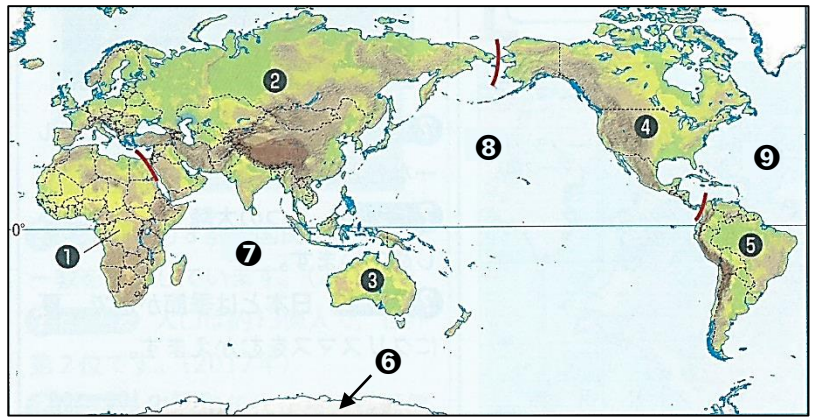
①	州
②	州

【世界の姿 No.1】 (解答)

1 世界には、6つの大陸と3つの大きな海 (=大洋) があります。

それぞれの大陸の名前と大洋の名前を覚えましょう！

ヒントは地理の教科書の P2, P3 にあるよ！



(1) 上の地図中の①～⑨にあてはまる大陸名や、海洋名を答えましょう。

①	アフリカ	大陸	②	ユーラシア	大陸	③	オーストラリア	大陸
④	北アメリカ	大陸	⑤	南アメリカ	大陸	⑥	南極	大陸
⑦	インド	洋	⑧	太平	洋	⑨	大西	洋

(2) 次の①～③の問いに答えましょう。

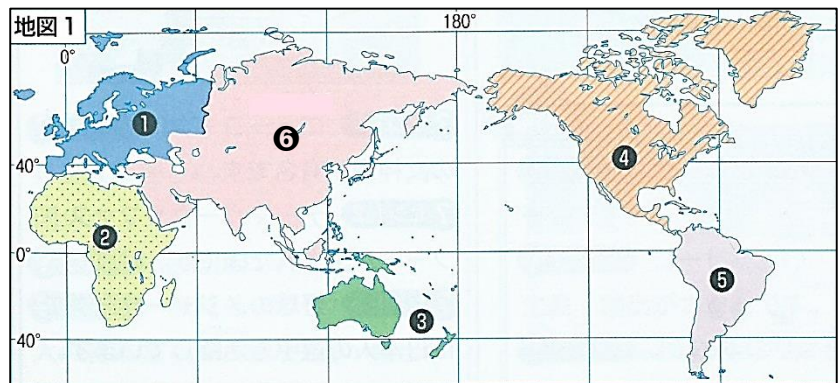
- ①地球の陸地と海洋の面積は、およそ何：何ですか。
- ②大陸の中で一番広いのは何ですか。
- ③大洋の中で一番広いのは何ですか。

① (陸地：海洋)	3	:	7
②	ユーラシア		大陸
③	太平		洋

2 世界をいくつかの地域に分けるときのよく使われるのが、6つの州に分ける方法です。大陸と同じ名前が使われている州もありますが、違う州もあります。

それぞれの州の名前を覚えましょう！

ヒントは地理の教科書の P3 にあるよ！



(1) 上の地図の①～⑥にあてはまる州の名前を答えよう。

①	ヨーロッパ	州	②	アフリカ	州	③	オセアニア	州
④	北アメリカ	州	⑤	南アメリカ	州	⑥	アジア	州

(2) 次の①②の問いに答えましょう。

- ①日本が属しているのは、何州でしょうか。
- ②オーストラリアが属しているのは、何州でしょうか。

①	アジア	州
②	オセアニア	州